
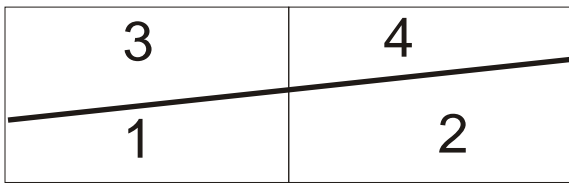


FITXA 1.1

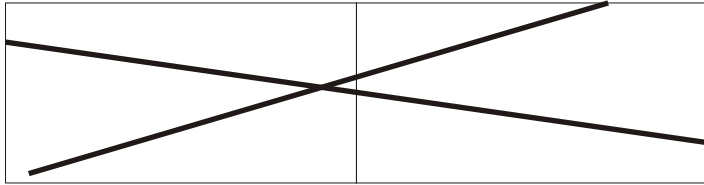
Fixa't en aquest rectangle l'hem dividit en dues parts iguals.



I què passa si afegeixo una altra línia?




I una altra?



Ara és quan has de pensar com pots fer 11 trossos amb només 4 línies rectes?




Eh, no val aquesta línia!!!!




Fitxa1.2


Quants de trossos iguals pots fer només amb 3 línies en aquest cercle?




I en aquest quadrat?



I com pots fer 8 trossos iguals amb 4 talls en aquest cercle?




I amb 3 talls com pots fer 3 trossos iguals?



Fitxa1.3

I com pots fer en un quadrat 3 talls i fer 3 trossos?



T'has adonat de la diferència entre una línia i un tall? Explica-ho

Com pots fer 6 trossos amb dos talls amb línies rectes en aquest croissant?



Ara ve el més difícil, com podem fer 22 trossos amb 5 talls? No val ni un rectangle ni un cercle