

L'INSPECTOR MANELIC-2



A la fi ha arribat la informació d'un còmplice la Sra Violeta, la lladra detinguda per Manelic.

Les pistes estan en un sobre tancat: l'inspector l'obre i Manelic i llegeix la pista

El nombre de les sabates del lladre és

1ª pista:

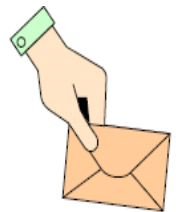
... Entre els múltiples de 4 des de 0-60.

Llavors pot ser:

2a pista:

... ¿No és un múltiple de 8

Llavors pot ser:



3a pista:

... ¿No és un múltiple de 3

Llavors pot ser:

4a pista:

... És més gran que 28

Llavors pot ser:

5a pista:

... ¿No és el doble de 26

Llavors és ____

Les pistes per a l'inspector diu el següent:

El número que indica l'altura del lladre és:

1^a pista:

... No és un nombre senar i es troba entre 150 i 190.

Llavors pot ser:

2a pista:

... El dígit de les desenes és un nombre senar.

Llavors pot ser: _____

3a pista:

... El dígit de les desenes no és igual a la de les unitats.

Llavors pot ser:

4a pista:

... El dígit de les desenes és el doble de 4.

Llavors pot ser:

5a pista:

... No és el menor o fins i tot més gran.

Llavors pot ser:

6 de pista:

... ¿No és el doble de 92.

Llavors és ___ centímetres

Les pistes vénen ... en un full dins d'una ampolla

El nombre que indica l'extensió del capell del lladre és ...



1ª pista:

... Números de 6 120-30.

Llavors pot ser: _____

2a pista:

... ¿No és un múltiple de 5.

Llavors pot ser: _____

3a pista:

... No és un múltiple de 12

Llavors pot ser: _____

4a pista:

... El dígit de les desenes és major que la suma de les unitats.

Llavors pot ser: ____

5a pista:

... No és divisible per 7

Llavors pot ser: ____




El missatge que indica el pes en quilograms del lladre arriba .. per aire:

1^a pista:

... Els nombres de 3 de 60 a 120.

Llavors pot ser: _____



2a pista:

... ¿No és un múltiple de 5.

Llavors pot ser: _____

3a pista:

... No és divisible per 4.

Llavors pot ser: _____

4a pista:

... El dígit de les desenes, no és un múltiple de 3

Llavors pot ser: _____

5a pista:

... És més petit que 10 desenes. Llavors pot ser: _____

6a de pista:

... No és un múltiple de 9. A continuació, pot ser: _____

7a de pista:

... No és la més.

Llavors és: _____



Les últimes pistes li arriben a l'inspector Manelic escrites a un joc de cartes....
Hem de descobrir que fa de cintura el còmplice :

1^a pista:

... Comptem de 8 en 8 del 6 a la 134.

Llavors pot ser: _____



2a pista:

... No és un múltiple de 3

Llavors pot ser: _____

3a pista:

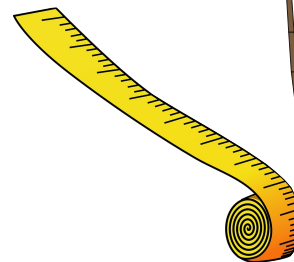
... És menor que 5 vegades 4 vegades per cinc

Llavors pot ser: _____

4a pista:

... El dígit de les desenes, no és un múltiple de 3.

Llavors pot ser: _____



5a pista:

... No és un múltiple de 7.

Llavors pot ser: _____

6a de pista:

... El dígit de les desenes és major que el de les unitats.

Llavors és ____ centímetres

Manelic ara té tota la informació per determinar la identitat del còmplice del lladre, la Sra. Violeta
Amb aquesta informació esbrina qui és el còmplice.

Sr. Negre Sabates : 44 alçada : 182 capell : 54 pes : 78 cintura: 86	Sr. Blai Sabates : 44 alçada : 178 capell : 56 pes : 88 Cintura : 98
Sr. Verd Sabates : 44 alçada : 182 capell : 54 pes : 89 Cintura : 95	Sra. Rose Sabates : 44 alçada : 182 capell : 54 pes : 78 Cintura : 78
Sr. Gasa Sabates : 44 alçada : 182 capell : 56 pes : 98 Cintura : 95	Sra. Blanca Sabates : 38 alçada : 182 capell : 54 pes : 78 Cintura : 86

L'inspector Manelic ha detingut el culpable , que és